





اليوم :
اسمى :





3 أضع (X) في الخانة المناسبة لأحدد حالة كل جسم

جسم صلب

جسم سائل

4 أصل صورة كل حيوان بأعضاء التنقل التي يستخدمها

			
●	●	●	●

قوائم

زعانف

أجنحة

5 ألون خانة الجواب الصحيح:



قوة مغناطيسية

قوة عضلية

قوة كهربائية



قوة مغناطيسية

قوة عضلية

قوة كهربائية



قوة مغناطيسية

قوة عضلية


قوة كهربائية

1 تصنف الكائنات الحية من حيوانات ونباتات إلى مجموعات مختلفة
أكتب اسم المجموعة التي ينتمي إليها كل من الكائنات التالية:


الزواحف - الأسماك - البرمائيات - الثدييات - زهري - لا زهري - الطيور




.....




.....



.....



.....




.....



.....

2 اصنف الحيوانات التالية بكتابة: ذكر - أنثى



.....



.....



.....



.....